

SULIT
1249/1
Sejarah
Kertas 1
Ogos
2018
1 jam

1249/1



MAKTAB RENDAH SAINS MARA

PEPERIKSAAN AKHIR SIJIL PENDIDIKAN MRSM 2018

SEJARAH

Kertas 1

Satu jam

JANGAN BUKA KERTAS SOALAN INI SEHINGGA DIBERITAHU

1. *Kertas soalan ini mengandungi 40 soalan.*
2. *Jawab semua soalan.*
3. *Tiap-tiap soalan diikuti oleh empat pilihan, iaitu A, B, C dan D. Bagi setiap soalan, pilih satu jawapan sahaja. **Hitamkan** jawapan anda pada kertas jawapan objektif yang disediakan.*
4. *Jika anda hendak menukar jawapan, padamkan tanda yang telah dibuat. Kemudian hitamkan jawapan yang baharu.*

Kertas soalan ini mengandungi 17 halaman bercetak.


[Lihat halaman sebelah

1249/1

©2018 Hak Cipta Bahagian Pendidikan Menengah MARA

SULIT

- 1 Gambar 1 berkaitan karya Ibnu Khaldun yang menekankan kehidupan bandar yang bertamadun.




Gambar 1

Apakah ciri kehidupan tersebut?

- A Kestabilan politik
 - B Ketinggian moral
 - C Kemajuan ekonomi
 - D Kebebasan beragama
- 2 Apakah fungsi zigurat dalam tamadun Mesopotamia?
- A Makam diraja
 - B Kubu pertahanan
 - C Rumah ibadat
 - D Tempat pertarungan
- 3 Mengapakah dua orang konsul dilantik dalam sistem pemerintahan republik di Rom?
- A Memudahkan perluasan empayar
 - B Mengimbangi kuasa pemerintah
 - C Memilih pemimpin berwibawa
 - D Mengelakkan penaklukan kuasa asing

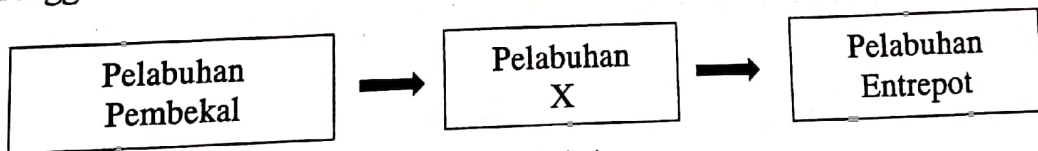
- 4 Gambar 2 berkaitan acara dalam Sukan Olimpik di Yunani pada tahun 776 S.M.



Gambar 2

Mengapakah sukan tersebut diadakan?

- A Menghormati tuhan
 - B Memilih panglima perang
 - C Mempamerkan kekuatan tentera
 - D Memantapkan semangat patriotisme
- 5 Rajah 1 berkaitan tahap perkembangan pelabuhan dalam kerajaan awal di Asia Tenggara.



Rajah 1

Apakah X?

- A Pelabuhan darat
- B Pelabuhan tentera
- C Pelabuhan kerajaan
- D Pelabuhan perikanan

[Lihat halaman sebelah

SULIT

- 6 Mengapakah konsep dewa-raja diamalkan dalam kerajaan awal di Asia Tenggara?
- A Memperkukuh kedudukan pemerintah
 - B Kepercayaan kepada alam semesta
 - C Kepelbagaian amalan beragama
 - D Mengiktiraf golongan pendeta

- 7 Maklumat berikut berkaitan dengan kehidupan masyarakat Arab pada Zaman Jahiliyah.

- | |
|--|
| <ul style="list-style-type: none"> • Menyembah berhala • Menanam bayi perempuan • X |
|--|

Apakah X ?

- A Menjalinkan kerjasama antara kabilah
 - B Memiliki ilmu pengetahuan tinggi
 - C Mengamalkan semangat assabiah
 - D Mempunyai susun lapis masyarakat
- 8 Maklumat berikut berkaitan peristiwa yang berlaku dalam kehidupan Nabi Muhammad SAW.

Umur	Peristiwa
35 Tahun	Menyelesaikan pertelingkahan perletakan semula Hajar Aswad

Apakah ciri keperibadian yang boleh dicontohi daripada peristiwa tersebut?

- A Kegigihan
- B Bersemangat
- C Bersifat pemaaf
- D Kebijaksanaan

- 9 Apakah faktor kemenangan tentera Islam dalam Perang Khandak pada tahun 627 Masihi?
- A Senjata moden
 - B Tentera ramai
 - C Bantuan luar
 - D Strategi berkesan
- 10 Mengapakah orang Islam Madinah melakukan Bai'ah al-Ridwan pada tahun 628 M?
- A Kebenaran memasuki kota Madinah
 - B Menawan semula kota Makkah
 - C Membela kematian Uthman bin Affan
 - D Ancaman perang oleh orang Arab Quraisy
- 11 Maklumat berikut berkaitan dengan peralihan khalifah pada zaman pemerintahan Khulafa al-Rasyidin.

Sistem Syura

Mengapakah proses tersebut dilaksanakan?

- A Menjamin taat setia
 - B Meneruskan tradisi
 - C Memperkasakan kabilah
 - D Memilih pemimpin berwibawa
- 12 Penyebaran Islam membawa kepada pertembungan kebudayaan antara tamadun dunia.
- Apakah kesan pertembungan tersebut?
- A Kebangkitan ghazi
 - B Keruntuhan kelas sosial
 - C Kemunculan golongan Mozarab
 - D Kemosotan pengaruh gereja

[*Lihat halaman sebelah*]

- 13 Apakah perkara yang tercatat pada batu bersurat yang ditemui di Kuala Berang, Terengganu pada tahun 1899 Masihi?
- A Asal usul negeri
 - B Undang-undang keluarga
 - C Organisasi pemerintahan
 - D Salasilah raja

- 14 Jadual 1 berkaitan dengan pemimpin kerajaan di Asia Tenggara.

Pemerintah	Kerajaan
Sultan Malik al-Zahir	Samudera-Pasai
Sultan Iskandar Thani	Acheh

Jadual 1

Apakah persamaan tokoh tersebut?

- A Menerapkan unsur-unsur Islam
 - B Mengelakkan amalan hidup mewah
 - C Menggalakkan aktiviti pelayaran
 - D Menghapuskan pengangguran
- 15 Maklumat berikut berkaitan pepatah dalam masyarakat Melayu tradisional.

*Siakap senohong gelama ikan duri,
bercakap bohong lama-lama mencuri.*

Apakah pengajaran daripada pepatah tersebut?

- A Jangan bersikap tamak
- B Sabar dalam kehidupan
- C Adil dalam tindakan
- D Jauhi perkara yang dilarang

- 16 Maklumat berikut adalah bandar yang muncul pada zaman Kemuncak Pertengahan di Itali.

- | |
|--|
| <ul style="list-style-type: none">• Venice• Genoa |
|--|

Apakah faktor kemunculan bandar tersebut?

- A Kestabilan politik
B Kekayaan sumber alam
C Pusat perdagangan antarabangsa
D Perkembangan kegiatan penjelajahan
- 17 Pada zaman Revolusi Perindustrian, Akta Antipenggabungan telah diwujudkan. Apakah kesan pelaksanaan akta tersebut ?
- A Gaji pekerja disekat
B Wanita mendapat gaji lumayan
C Peluang meningkatkan kemahiran
D Eksploitasi kanak-kanak dilarang
- 18 Jadual 2 merujuk kepada kadar pengeluaran bijih timah di Tanah Melayu pada abad ke-20.

Tahun	Peratus pengeluaran
1915	28%
1925	44%
1935	66%

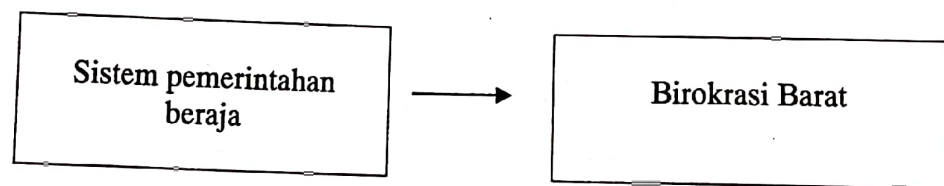
Jadual 2

Mengapakah pengeluaran tersebut meningkat?

- A Penglibatan pembesar tempatan
B Penggunaan teknologi moden
C Pengawalan harga pasaran
D Penguatkuasaan undang-undang

[Lihat halaman sebelah

- 19 Mengapakah Land Settlement Order diperkenalkan oleh British di Sarawak pada tahun 1933?
- A Melindungi tanah peribumi
 - B Meningkatkan cukai pertanian
 - C Membawa masuk pelabur asing
 - D Memajukan kegiatan peladangan
- 20 Antara berikut, yang manakah ciri sistem pendidikan vernakular di Tanah Melayu.
- A Menyatukan masyarakat pelbagai kaum
 - B Melantik guru dari negara asal
 - C Sukatan pelajaran yang sama
 - D Mendapat bantuan kerajaan
- 21 Rajah 2 menunjukkan perubahan yang berlaku dalam sistem pentadbiran di Asia Tenggara.



Mengapakah berlaku perubahan tersebut?

- I Mengukuhkan kedudukan raja
 - II Memodenkan sistem pentadbiran
 - III Mengeksploitasi ekonomi tempatan
 - IV Memantapkan pendidikan rakyat
- A I dan II
 - B I dan IV
 - C II dan III
 - D III dan IV

22 Maklumat berikut berkaitan dasar ekonomi penjajah di Asia Tenggara.

- Sistem Tanaman Paksa
- Sistem Polo

Apakah kesan pelaksanaan sistem tersebut terhadap penduduk tempatan?

- A Mempelbagai jenis tanaman
- B Memajukan kawasan pedalaman
- C Meningkatkan ekonomi dagangan
- D Membangkitkan semangat nasionalisme

23 Tokoh berikut telah terlibat dalam konflik kawasan sempadan di Negeri Sembilan pada tahun 1874.

- Dato' Kelana Syed Abdul Rahman
- Dato' Syahbandar Abdullah Tunggal

Mengapakah berlaku perbalahan tersebut?

- A Memonopoli kawasan perlombongan
- B Menguasai kawasan pertanian
- C Merebut hak memungut cukai
- D Menyaingi jawatan pembesar

[Lihat halaman sebelah


- 24 Jadual 3 menerangkan novel yang diterbitkan sebelum Perang Dunia Kedua di Tanah Melayu?

Tahun	Tajuk Novel	Pengarang
1930-an	Anak Mat Lela Gila	Ishak Haji Muhammad

Jadual 3

Apakah tema novel tersebut?

- A Mencintai tanah air
 - B Meningkatkan taraf hidup
 - C Kebebasan kaum wanita
 - D Kepentingan pendidikan
- 25 Gambar 3 berkaitan gagasan 1Malaysia yang mempunyai persamaan dengan konsep bangsa Malaysia.



Gambar 3

Bagaimanakah konsep bangsa Malaysia dapat dicapai ?

- A Perkongsian amalan agama
- B Penggunaan bahasa kebangsaan
- C Pengekalan sistem pendidikan vernakular
- D Persempadanan negara berasaskan bangsa

- 26 Gambar 4 merujuk kepada pemimpin di negeri Johor pada abad ke-19.



Gambar 4: Sultan Abu Bakar

Apakah sumbangan baginda?

- A Merangka peta negeri
 - B Menggubal perlembagaan
 - C Menubuhkan pusat kebudayaan
 - D Mewajibkan penggunaan Bahasa Melayu
- 27 Rajah 3 menunjukkan perubahan sistem pentadbiran British di Tanah Melayu.




Rajah 3

Mengapakah berlaku perubahan tersebut?

- A Ketegasan orang Melayu
- B Penentangan orang dagang
- C Tuntutan ekonomi penjajah
- D Desakan golongan berhaluan kiri

[Lihat halaman sebelah

- 28 Gambar 5 menunjukkan pemimpin tempatan yang terlibat dalam pembunuhan Gabenor British di Sarawak pada tahun 1949.



Gambar 5 : Rosli Dhobi

Mengapakah beliau bertindak sedemikian?

- A Menolak sistem cukai
 - B Mempertahan adat resam
 - C Menggugat kuasa pembesar
 - D Menentang penyerahan negeri
- 29 Dialog berikut mungkin berlaku selepas pilihan raya Majlis Perundangan Persekutuan 1955.

Pak Leman : Tahniah ! Nampaknya Parti Perikatan telah menang besar kali ini.
Pak Yahya : Ini hasil keberkesanan manifesto yang dibentangkan oleh pemimpin parti.

Apakah yang dijanjikan dalam manifesto tersebut ?

- A Peningkatan taraf kesihatan penduduk
- B Pengekalan sistem pentadbiran Barat
- C Peluang pekerjaan kepada rakyat
- D Perjuangan kemerdekaan Tanah Melayu

- 30 Maklumat berikut berkaitan dengan suruhanjaya bebas yang ditubuhkan di Tanah Melayu.

Tahun	Suruhanjaya
1956	Suruhanjaya Reid

Apakah peranan suruhanjaya tersebut?

- A Merangka perlembagaan Persekutuan Tanah Melayu
B Melatih rakyat tempatan dalam pentadbiran
C Menganjurkan rundingan antara kaum
D Mencadangkan tarikh pilihan raya
- 31 Perdana Menteri Tunku Abdul Rahman telah mengumumkan cadangan pembentukan Malaysia di Hotel Adelphi, Singapura pada 27 Mei 1961.
- Mengapakah beliau bersetuju dengan pembentukan tersebut?
- A Memenuhi desakan pelabur asing
B Membanteras pengaruh komunis
C Menghalang kemasukan imigran
D Meneruskan dasar neokolonialisme
- 32 Maklumat berikut merujuk kepada Parti Perikatan Sabah pada tahun 1962.

- | |
|--|
| <ul style="list-style-type: none">• UNKO• USNO• Parti Pasok Momogun• Parti Bersatu• Parti Demokratik |
|--|

Apakah kepentingan penubuhan parti tersebut?

- A Mengembalikan kuasa rakyat
B Memulakan proses demokrasi
C Menyokong gagasan Malaysia
D Mempertahankan hak semua kaum

[*Lihat halaman sebelah*]

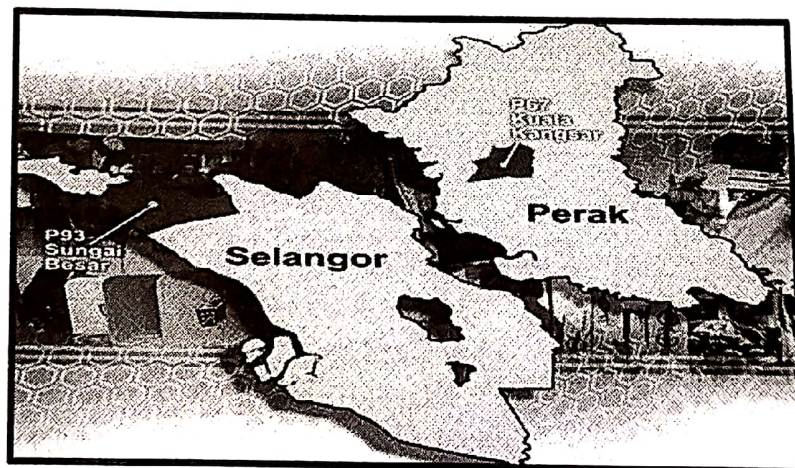
- 33 Gambar 6 merujuk kepada Duli Yang Maha Mulia Seri Paduka Baginda Yang di-Pertuan Agong ke-15 iaitu Sultan Muhammad V.



Gambar 6: Sultan Muhammad V

Apakah bidang kuasa baginda mengikut Perlembagaan Malaysia?

- A Membubarkan Parlimen
 - B Menggubal undang-undang
 - C Memilih ahli Dewan Rakyat
 - D Menetapkan tarikh pilihan raya
- 34 Gambar 7 menunjukkan kawasan pilihanraya kecil di Parlimen Sungai Besar dan Kuala Kangsar pada 18 Jun 2016.

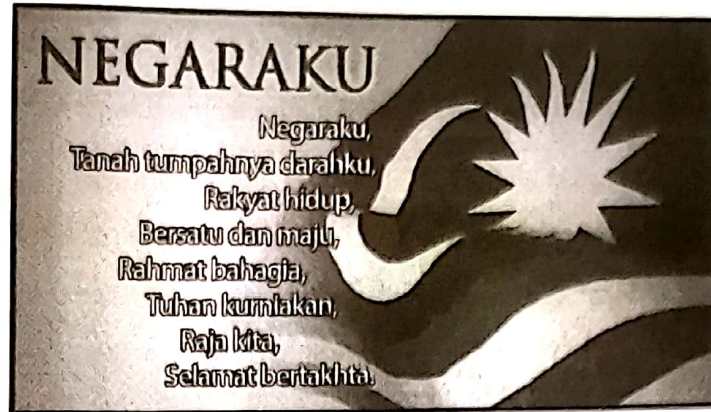


Gambar 7

Mengapakah pilihanraya kecil ini diadakan ?

- A Pembentukan parti baru
- B Berlakunya kematian
- C Hilang sokongan rakyat
- D Pemecatan keahlian parti

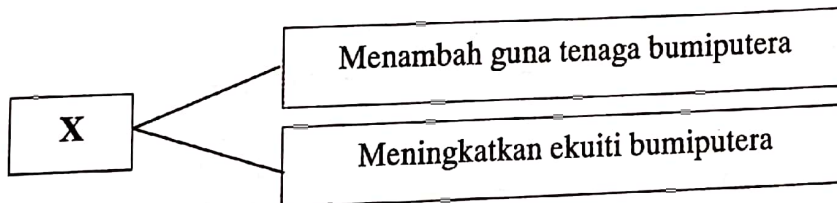
- 35 Gambar 8 merujuk kepada lirik lagu Negaraku yang menjadi kebanggaan rakyat Malaysia.



Gambar 8

Apakah nilai yang ingin diterapkan?

- A Keagungan
 - B Kegigihan
 - C Kemajuan
 - D Kesetiaan
- 36 Maklumat berikut berkaitan dengan peranan sebuah agensi kerajaan Malaysia.



Apakah X ?

- A MARA
- B FAMA
- C FELDA
- D FELCRA

[Lihat halaman sebelah

SULIT

- 37 Kerajaan telah memperkenalkan program **pembangunan in-situ** dalam Dasar Pertanian Negara (DPN).

Apakah strategi yang digunakan untuk menjayakan program tersebut?

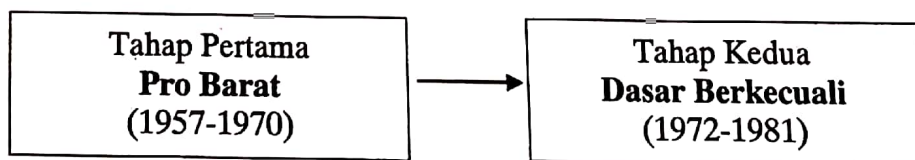
- A Membuka petempatan baru
- B Menambah peluang pekerjaan
- C Menggalakkan industri kecil dan sederhana
- D Memulihkan kawasan berproduktiviti rendah

- 38 Rukun Negara diisytiharkan oleh Majlis Gerakan Negara (MAGERAN) pada 31 Ogos 1970.

Apakah tujuan pengisytiharan tersebut?

- A Mengeratkan perpaduan rakyat
- B Memartabat bahasa kebangsaan
- C Melindungi hak istimewa pribumi
- D Mengukuhkan kedudukan pemerintah

- 39 Rajah 3 berkaitan dengan perkembangan dasar luar Malaysia.



Rajah 3

Mengapakah berlaku perubahan tersebut?

- A Penglibatan dalam Komanwel
- B Perjanjian kerjasama ketenteraan
- C Pergolakan politik di Vietnam
- D Kemelesetan ekonomi dunia

40 Pergerakan Negara-Negara Berkecuali (NAM) ditubuhkan pada bulan September 1961.

Apakah prinsip perjuangan pertubuhan tersebut?

- I Meningkatkan taraf hidup penduduk
 - II Mengekalkan keamanan dunia
 - III Mengelakkan campur tangan asing
 - IV Mengembangkan sektor pelancongan
-
- A I dan II
 - B I dan IV
 - C II dan III
 - D III dan IV

KERTAS PEPERIKSAAN TAMAT